



Състезание „Аз, природата и светът”

IV клас

Училище: клас:

Име, презиме, фамилия:

1. Огради свойството, което НЕ характеризира леда.

- а) безцветно вещество, без мирис и вкус;
- б) твърдо вещество;
- в) газообразно вещество.



2. В българската държава се обединили:

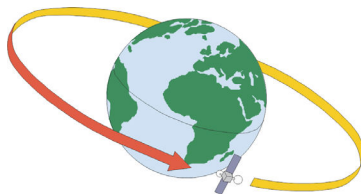
Огради верния отговор.

- а) византийци и българи;
- б) византийци и славяни;
- в) славяни и българи.

3. Земята прави едно пълно завъртане около оста си за:

Огради верния отговор.

- а) един ден;
- б) едно денонощие;
- в) една година.



4. Водата в реките се замърсява от:

Огради верния отговор.

- а) водните животни;
- б) водните растения;
- в) изхвърлени от хората отпадъци.

**5. Енергия се добива от:
Запиши под картинките.**




6. От името на коя наша планина произлиза името на Балканския полуостров? Огради верния отговор.

- а) Родопи;
- б) Витоша;
- в) Стара планина.

7. Попълни изреченията така, че да е вярно, като използваш думите: звезда, спътник, планета.

Земята е _____ .
Слънцето е _____ .
Луната е _____ .



8. Подреди стиховете от Химна на Република България.
Запиши.



Горда Стара планина,

слънце Тракия огрява,

над Пирина пламеней!

до ней Дунава синей,

9. Попълни на празните места думите:

газ, течност, твърдо тяло.

а) Има постоянна форма. Това е _____.

б) Променя формата и обема си. Това е _____.

в) Прелива се от един съд в друг, без да изменя обема си.

Това е _____.

10. Огради верния отговор.

По Черноморското ни крайбрежие расте:

а) еделвайс;

б) клек;

в) пясъчна лилия.



11. На географската карта равнините и низините са изобразени:

Огради верния отговор.

а) със синьо;


б) с червено;

в) със зелено.

12. Огради свойствата на въздуха.

- а) безцветен; б) сладък; в) поддържа горенето;
г) цветен; д) без вкус; е) не поддържа горенето.

13. Под всяко число запиши съответната буква от азбуката. Ще получиш име. С какво го свързваш?



1, 18, 16, 1, 17, 20, 22

_____ – създател на _____.

14. Огради знака, който предупреждава, че наблизо има пешеходна пътека?

