



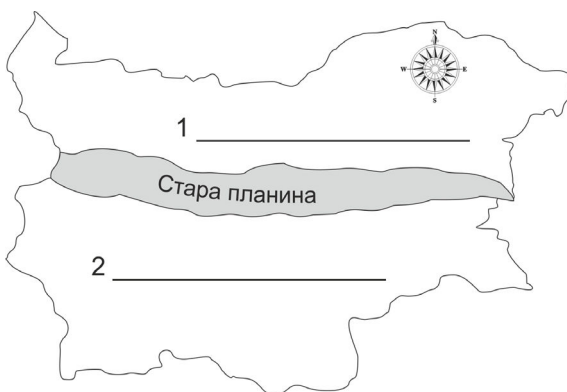
Състезание „Аз, природата и светът”

III клас

Училище: клас:


Име, презиме, фамилия:

1. Стара планина разделя България на две части. Запиши кои са те, съобразно посоките на света.



2. Попълни таблицата с предложените думи така, че да е вярно:

телевизор, скала, кокошка, молив, планина, пчела, река, пеперуда, къща



Живи организми	Неживи тела, създадени от природата	Неживи тела, създадени от човека

3. Свържи природния обект с неговото определение.

планина	Горният рохкав слой от земната повърхност, в който се развиват растенията.
река	Вдлъбната част от земната повърхност, запълнена с вода.
езеро	Постоянен воден поток.
почва	Изпъкнала форма на земната повърхност.

4. От буквите състави думи, които означават видове валежи.

ждъд - _____

янсг - _____

акшударг - _____

5. Свържи състоянията на веществата така, че да е вярно.

твърдо



течно



газообразно




6. Подчертай излишната дума от всяка група.

а) дъб, къпина, липа, бук;

б) сърна, лисица, кокошка, вълк;

в) Стара планина, Искър, Родопи, Пирин.

г) Янтра, Дунав, Мусала, Марица



7. Попълни изреченията като използваш думите:

газ, вкус, мирис, дишането, горенето

Въздухът е _____ без _____ и без _____. Той е необходим за _____ и за _____.

8. Кои са най-древните жители на днешните български земи? Огради верния отговор.


- а) славяните;
- б) траките;
- в) прабългарите.

9. Колко е дълга нощта, ако денят е 10 часа? Огради верния отговор.

- а) 10 часа; _____
- б) 14 часа; _____
- в) 12 часа. _____



10. Попълни кръстословицата. Хоризонтално ще получиш онова, което е необходимо за живота на човека, животните и растенията, след като откриеш и двете пропуснати гласни.



Запиши: _____

11. По коя от реките е развито корабоплаването? Огради верния отговор.

- а) Искър;
- б) Струма;
- в) Дунав.

12. Запиши държавите, с които граничи България.



13. Кой пресича НЕПРАВИЛНО? Огради верния отговор.

- а) Ива пресича на пешеходна пътека;
- б) Иво пресича на червен светофар;
- г) Ива ползва пешеходния подлез.

