



Национално финално състезание

I клас

Училище: клас:

Име, презиме, фамилия:

1. Кои от двойките числа имат разлика 3? Подчертай ги.

18 и 15

17 и 15

14 и 11

16 и 3

18 и 5

15 и 12

2. Мая записа три числа. Първото е 6, второто с 2 по-голямо, а третото с 3 по-голямо от първото. Запиши числата.




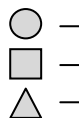
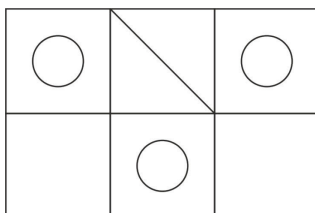
3. Кои две еднакви събираеми образуват най-малкото двуцифрено число? Огради верния отговор.

а) $1 + 1$;

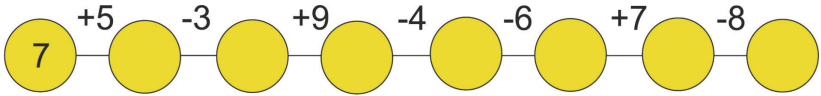
б) $5 + 5$;

в) $2 + 2$.

4. Запиши броя на геометричните фигури.



5. Пресметни верижката:



6. Запиши противоположните думи.

малък -

нисък -

ден -

топло -

7. Напиши Ш или Щ в думите:

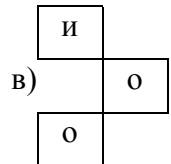
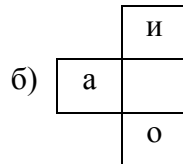
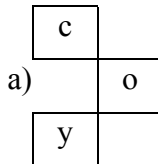
___ипка

ми___ка


пе___ера

8. Коя от фигурите трябва да поставиш в схемата, за да получиш думи? Огради верния отговор и запиши думите.



к		л	и	м
к	л		у	н
к		м	а	р



9. Открой скритата дума. Свържи я с картинката.



10. Свържи със стрелки от кое животно какви продукти се получават.



яйца

мед

мляко

месо

11. Познай кое е годишното време и го запиши:

А) Растенията се покриват с листа.

Птичките долитат от юг.

Поникват кокичета.

Б) Често вали дъжд.

Плодовете са узрели.

Листата падат от дърветата.

В) Вали сняг.

Денят е кратък.

Студено е.

Г) Денят е дълъг.

Горещо е.

Учениците са във ваканция.

12. Коя птица НЕ зимува у нас?

Огради верния отговор.

а) врабче;

б) гълъб;

в) щъркел.

13. Кой с какво се движи? Свържи с превозното средство, което използва.



14. Допиши изреченията:

Казвам се _____.

Живея в _____.

Уча в _____ " _____ ".

Скоро ще завърша _____ клас.

