



## Състезание „Аз и числата”

I клас

Училище: ..... клас: .....

Име, презиме, фамилия: .....

### 1. Огради само четните числа.

1      2      3      4      5  
6      7      8      9




### 2. Постави знаците + и – така, че да получиш вярно решени задачи.

$$3 \square 3 \square 2 = 4$$

$$8 \square 1 \square 3 = 6$$


### 3. Намислих число. Към него прибавих най-голямото едноцифрено число и получих най-малкото двуцифрено число. Кое число съм намислил? Запиши го.

Числото е



### 4. Ани има 6 банана и 3 портокала. Колко плодове общо има Ани? Огради верния отговор.

- а) 9;
- б) 10;
- в) 8.



5. Колко правоъгълници виждаш ? Запиши.



Правоъгълниците са

6. Емо има 8 зелени и 6 бели топчета. Заменил с брат си Ники 3 зелени за 4 бели. Колко са станали топчетата на Емо? Огради верния отговор.

- а) 15;
- б) 14;
- в) 13.

7. Колко бягащи деца и колко бягащи животни виждаш на картината? Запиши задачата.



$$\square + \square = \square$$

8. Лили се грижи за 2 папагала и 4 хамстера. Котетата ѝ са по-малко от хамстерите, но повече от папагалите. За колко котета се грижи Лили? Огради верния отговор.


- а) 4;
- б) 6;
- в) 3.



9. Диня тежи 8 кг. Тя е с три килограма по-тежка от един пъпеш и със 7 кг по-тежка от една зелка. Колко килограма тежи:

а) пъпеша -

б) зелката -



10. Колко букви има думата ПЪРВОЛАК? Колко от тях трябва да премахнеш, за да получиш думата ЛАК? Запиши и реши задачата.

\_\_\_\_\_

\_\_\_\_\_

\_\_\_\_\_

\_\_\_\_\_

\_\_\_\_\_

\_\_\_\_\_



11. Кой са числата между 4 и 9? Запиши ги.

4					9
---	--	--	--	--	---

12. При качването по стъпалата на блока, в който живее, Петьо започнал да ги брой. След като стигнал до второто стъпало, ускорил хода си и стъпвал през едно стъпало. На единнадесетото стъпало спрял. Запиши номерата на стъпалата, на които е стъпвал Петьо.

1	2					11
---	---	--	--	--	--	----

13. Ива купила 2 кг картофи, 3 кг чушки, 4 кг банани и 5 кг ябълки. Колко килограма зеленчуци и колко килограма плодове е купила Ива? Запиши.

Плодове -

Зеленчуци -

