



Национално финално състезание

II клас

Училище: клас:.....

Име, презиме, фамилия:

1. Огради прилагателните в текста.

„Малкото мече си рече:

- Добре е да си лапна сладък мед.

Тръгна по тясната пътечка. Притича по дървеното мостче над рекичката и стигна до дълбокия дол. Там е старото дърво, в което е домът на пчелите.”

2. Замени думата “едно” с думата “две”. Кои думи ще промениш? Запиши промененото изречение.

Едно котенце видяло мишка и се спуснало след нея.

3. Поправи грешките в текста. Препиши го правилно.

Хитар Петър утворил врътата. Презкочил уградата. Спрял се и зъчакал.

4. Кое от изреченията се състои от съществително име, прилагателно име и глагол? Огради верния отговор.

- а) Защо вятърът свири?
- б) Пролетното слънце грейна.
- в) Ето, заваля дъжд!





5. Най-малкото двуцифрено число с цифра на десетицата 6 е: Огради верния отговор.

- а) 60;
- б) 16;
- в) 66.

6. Четири деца вървели от къщи към училище. По пътя си срещнали 2 пъти повече деца. Колко деца всичко отивали към училище? Запиши.

Отговор: _____

7. Свържи яйцата с кокошките.



8. Огради верния отговор.

Мечката си прави бърлога и спи зимен сън.	да	не
Дърветата и храстите започват да цъфтят през лятото.	да	не
Тялото на човека е покрито с кожа.	да	не
При всяко хранене измиваме плодовете и зеленчуците.	да	не
През лятото денят е дълъг, а нощта - къса.	да	не
Прелетните птици отлитат на юг през пролетта.	да	не

9. Кои са правата и задълженията на ученика? Свържи със стрелка.

Да учи редовно уроците си.

Да изказва свободно мнението си.

Да ползва помещенията в училище.

Да посещава редовно училище.

Да пази класната стая чиста.

Да спазва дисциплината в училище.

ПРАВА

ЗАДЪЛЖЕНИЯ

10. В гората отишли деца, които се грижат за животните. Какво оставили след себе си? Огради верния отговор.

а) счупени клони, накладен огън;

б) хранилки за птици;

в) разпилени отпадъци.

11. А. Запиши три числа, първото от които е 27, а всяко следващо – 3 пъти по-малко от предходното. Намери сбора им.

Сборът е _____

Б. От произведението на 10 и 3 извади тяхната разлика.

12. Една круша и една ябълка струват 1 лев. Ани си купила 3 круши, а Пепи - 3 ябълки. Колко лева общо са платили? Огради верния отговор.

а) 5 лв.

б) 3 лв.

в) 6 лв.

13. Разпредели месеците на годината според сезоните.

ПРОЛЕТ	ЛЯТО	ЕСЕН	ЗИМА

14. Страната на равностраничен триъгълник е 5 см. Страната на квадрат също е 5 см. Намери обиколката на всяка фигура. Запиши с колко сантиметра едната обиколка е по-голяма от другата.

Отговор: _____

15. Образувай словосъчетания като прибавиш подходящи съществителни към прилагателните имена. С едно от словосъчетанията образувай изречение и го запиши.

зелена - _____ весели - _____

широк - _____ ниско - _____

солено - _____ памучен - _____
