




Национално финално състезание

II клас

Училище: клас:.....

Име, презиме, фамилия:

1. Помогни на Ани да пресметне задачката във всяко цвете и оцвети само листенцето с верния отговор.



2. Вълк, лисица и мечка делили риба. Мечката взела за себе си 9 кг, което било половината от уловената риба. Вълкът и лисицата взели останалата половина. Колко килограма е била рибата, която са си разделили животните? Огради верния отговор.

- а) 36 кг;
- б) 18 кг;
- в) 27 кг.



3. От 24 метра тел са изработени равностраничен триъгълник и квадрат, които имат равни обиколки. С колко метра страната на триъгълника е по – голяма от страната на квадрата? Огради верния отговор.

- а) 3 м; _____
- б) 2 м; _____
- в) 1 м. _____

4. На екскурзия тръгнаха 32 второкласници, от които 24 момчета. Колко пъти момчетата са повече от момичетата? Запиши.



5. В кой ред има само същ. нар. имена? Огради верния отговор.

- а) красив, ден, малина;
- б) Ани, песен, пея;
- в) телефон, топка, лъв.

6. От текста извади съществителните имена, прилагателните имена и глаголите и ги разпредели в колонките.

„Зайко мина до кошерите на пчелите, които събираха мед от есенните цветя. После се спусна към големия горски мравуняк”.

съществителни имена	прилагателни имена	глаголи

7. Какъв е отговорът на гатанката и с какъв празник го свързваме? Огради верния отговор.

С вар варосано и изписано,
зид зидосано,
няма дупка ни прозорче.

Що е то?



- а) подарък, Коледа;
- б) боядисано яйце, Великден;
- в) мартеница, Баба Марта.

8. В кои имена са скрити въпросителни думи? Подчертай ги.

Мими

Ралица

Койчо

Далида

Бойка

9. На кой ред глаголите в множествено число завършват на – МЕ? Огради верния отговор.

- а) играя, пея;
- б) скачам, викам;
- в) чета, броя.

10. Открой правописните грешки, които е допуснал Иван. Напиши правилно бележката до майка му.

Мамо,
ас съм на площадк-
ата пред нашия блог
с димо.

Иван

**11. За да бъдем здрави и силни, е нужно:
Огради грешния отговор.**

- а) редовно да си мием зъбите;
- б) да си мием ръцете преди всяко хранене;
- в) да не ядем плодове и зеленчуци.

12. Правилно ли са подредени дните на седмицата? Ако има грешки, запиши ги правилно.

1. Понеделник

1.....

2. Сряда

2.....

3. Събота

3.....

4. Петък

4.....

5. Неделя

5.....

6. Вторник


6.....

7. Четвъртък


7.....

13. Свържи животните със съответната група.

Домашни любимци



Селскостопански животни



14. Допълни правилата за безопасно движение като използваш думите: *премини, се спри, се движи.*

На тротоара вдясно _____!

На пешеходната пътека _____!

Светофара погледни и на цвят червен _____!