



## Национално финално състезание

III клас

Училище: ..... клас: .....

Име, презиме, фамилия: .....

1. Номерирай отделните изречения така, че да образуват текст.

моля те, недей ме връща.  
Дай да видя твоята къща.


Кой на портичката чука?  
Махай се, момче, оттука!


Чук – чук! Де ли се е скрила?  
Хей, пчелице лекокрила,

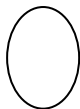
1




2. Зайко празнувал Великден. Той събирал само яйцата с прилагателни имена, които се пишат с двойно -НН-.  
Оцвети ги.





пролетен



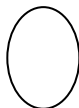
телефонен



умен



странен



смешен



постоянен

3. Напиши подходяща сродна дума, образувана от глагола *гледам*, в изреченията.

Илиян \_\_\_\_\_ детска енциклопедия.

Майката \_\_\_\_\_ спящото бебе.

Евгени \_\_\_\_\_ рибки.

Кирчо се \_\_\_\_\_ в джипа.

**4. Открий кой герой ни описва ваш съученик. Огради верния отговор.**

*„Той е бил на Луната и в подземното царство. За приятел има дяволче и глинено човече. От пакостник и мързеливец се превръща в послушно и работливо момче.”*

- а) Карлсон;
- б) Ян Бибиян;
- в) Емил от Лъонеберя.



**5. Колко сорта ябълки се отглеждат в България ще узнаеш, ако намериш частното на числата 104 и 4. Огради верния отговор.**

- а) 26;
- б) 416;
- в) 100.



**6. Реши числените изрази:**

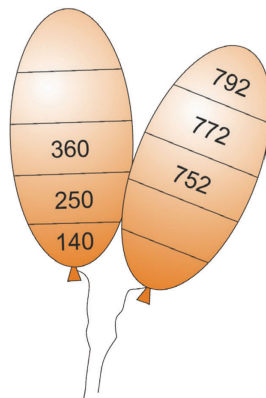
$$67 \cdot 8 + 721 : 7 =$$
$$= \underline{\hspace{2cm}} =$$
$$= \underline{\hspace{2cm}}$$

$$123 \cdot 4 - 385 : 7 =$$
$$= \underline{\hspace{2cm}} =$$
$$= \underline{\hspace{2cm}}$$

**7. Митко, Стоян и Павел тежат заедно 111 кг. Стоян и Павел тежат 75 кг, а Митко и Стоян – 63 кг. По колко килограма тежи всяко от момчетата? Запиши.**

- Митко -            кг
- Стоян -            кг
- Павел -            кг


**8. Помогни на Асен да попълни в редиците по 2 липсващи числа върху балоните.**



9. Кой сетивен орган можем да открием на географските карти? Запиши.

---

10. Разгледай схемата на кръговрата на водата в природата. В таблицата са записани 4 части от този процес. Номерирай с цифри последователността им на схемата и в таблицата.



1	Водата се изпарява от морето и водните пари се издигат във въздуха.
	Образуват се облаци.
	Водата се влива в морето.
	Водата пада на земята като дъжд.

11. Кой български революционер е описан в следния текст?

„С четата си преминал Дунава. Загинал в сражение за свободата на България. Написал прекрасни стихове. Роден е в град Калофер.“

**Огради верния отговор.**

- а) Васил Левски;
- б) Георги Раковски;
- в) Христо Ботев.



**12. Свържи, за да е вярно.**

Най-дългата планина в България.

Рила

Река, която извира от Рила  
и пресича Стара планина.

Дунав

Най-високата планина в България.

Стара планина

Река, на която е разположен град Русе.

Искър

**13. Напиши само основните посоки, отбелязани на картата?**



**14. Къде е най-опасно и къде сме най-защитени при гръмотевична буря? Огради с червено опасните и със зелено безопасните места.**

1. По върхове и високи места.
2. В близост до антена или електрически стълб.
3. В сграда със затворени прозорци и врати.
4. До метални огради или други метални съоръжения.
5. В автомобил.
6. Около или във воден басейн.
7. Под единични дървета.

