



Състезание „Аз и числата”

II клас

Училище: _____ клас: _____

Име, презиме, фамилия: _____


1. Допълни липсващите числа:

10,, 30, 40,,, 70,,, 100

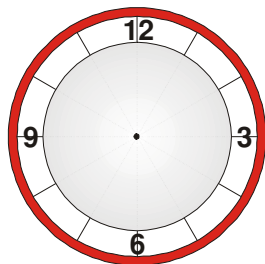
2. Допълни редицата на числата:

55, 50,,, 35, 30,, 20,, 10

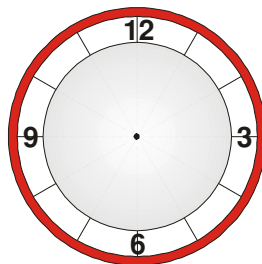
3. Оцвети триъгълниците в зелено, правоъгълниците в синьо, а кръговете в червено:



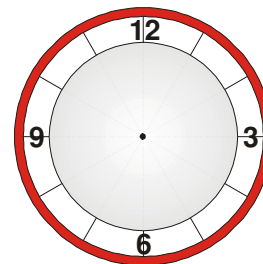
4. Постави стрелките на часовника така, че да показва посочения час и минути:



10 часа и 15 минути

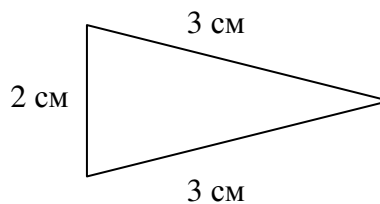
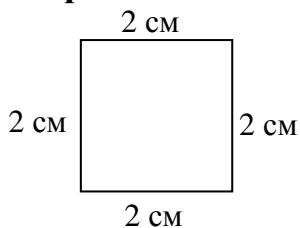


6 часа и 00 минути

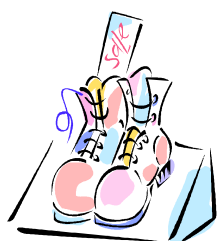


2 часа и 30 минути

5. Намери обиколките на начертаните фигури:




6. Пресметни колко ще струват:



45 лв



10 лв



30 лв



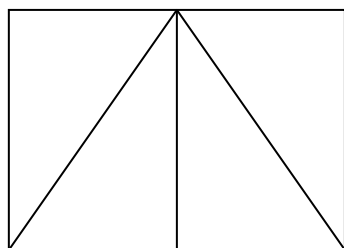
25 лв

Обувки и блуза _____

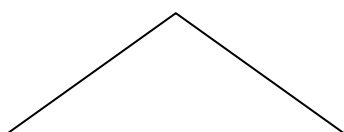
Шапка и ръкавици _____

Шапка и обувки _____

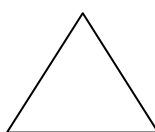
7. Колко триъгълници има на фигурата:



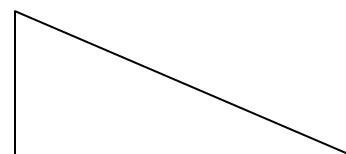
8. Свържи триъгълниците с наименованията им по вид:



разностранен




равнобедрен

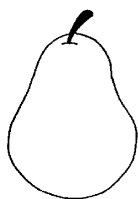


равностранен


9. Оцвети само плодовете, номерирани с четни числа:



2



4



3



6



5

10. Довърши верижката по показания начин:

△	▲	☺	☀	♪										
---	---	---	---	---	--	--	--	--	--	--	--	--	--	--

11. Мартин си купил молив, тетрадка и линия, като платил за тях 6 лв. Моливът и тетрадката стрували 5 лв., а тетрадката и линията – 4 лв. Каква е цената на една линия.

12. Единият множител е равен на разликата на числата 17 и 13, а другият е 6. Намери произведението.

13. Майката на Емил е на 36 години. Баща му е с 5 години по-възрастен от нея, а Емил е с 33 години по-млад от баща си. На колко години е Емил?
