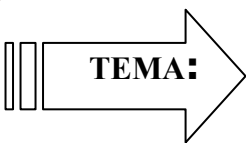




САМОСТОЯТЕЛНА РАБОТА № 6

Име: _____ IV клас № _____ Дата: _____



ЗНАНИЯ И УМЕНИЯ ПО МАТЕМАТИКА В КРАЯ НА 4. КЛАС

Изходно равнище

Огради верния отговор.



Зад.1. На кое от числата е името? (1 т.)



триста четиридесет
и две хиляди
седемстотин и пет

- a) 314 275
- б) 342 750
- в) 342 705

Зад. 2. Кое е числото, което е с 1 по-голямо от 475 999? (1 т.)

- a) 476 000
- б) 480 000
- в) 500 000

Зад. 3. Коя е цифрата в реда на десетохилядите на числото? (1 т.)



- a) 7
- б) 8
- в) 9

Зад.4. Пресметни и огради буквата пред верния отговор. (4 x 1 т.)

A.
$$\begin{array}{r} 28\ 556 \\ + 71\ 524 \\ \hline \end{array}$$

- a) 99 080
- б) 100 080
- в) 99 980

B.
$$\begin{array}{r} 600\ 457 \\ - 136\ 028 \\ \hline \end{array}$$

- a) 474 435
- б) 464 439
- в) 464 429

B.
$$\begin{array}{r} 6\ 574 \cdot 4 \\ \hline \end{array}$$

- a) 26 286
- б) 26 296
- в) 26 096

Г. $7\ 263 : 9 = \dots\dots\dots$

- a) 87
- б) 78
- в) 807



Зад.5. Пресметни изразите и огради верния отговор. (2 т. + 2 т.)

$10\ 984 + 16 \cdot 86 =$
 =
 =

- a) 946 172
- б) 12 360
- в) 16 680

$28\ 896 : 24 + 33\ 648 : 24 =$
 =
 =

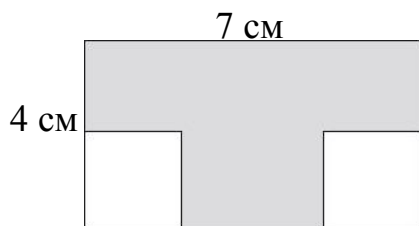
- a) 2 660
- б) 2 606
- в) 2 066

Изчислително поле

.....

Зад.6. Лицето на защрихованата част е: (2 т.)

Изчислително поле



- а) 20 кв. см
- б) 16 кв. см
- в) 14 кв. см

.....

.....

.....

.....

.....

.....

.....

Зад.7. Реши текстовата задача и огради буквата пред вярното решение. (2 т.)

В банковата си сметка семейство има 10 909 лв. От тях за почивка похарчило 1048 лв., които са 4 пъти по-малко от парите, похарчени за ремонт. Колко лева са останали в банковата сметка на това семейство?



Съкратен запис:

Решение:

.....

.....

.....

.....

.....

а) $1048 + 4 \cdot 1048 = 5240$
 $10\ 909 - 5\ 240 = 5\ 669$ (лв.)


б) $1048 + 1048 : 4 = 1\ 310$
 $10\ 909 - 1\ 310 = 9\ 599$ (лв.)

Скала за оценка:

- 14 – 15 т. (Отличен)
- 11 – 13 т. (Много добър)
- 8 – 10 т. (Добър)
- 5 – 7 т. (Среден)
- 0 – 4 т. (Слаб)

Максимален брой точки: **15**

Брой точки за верни отговори:



Оценка:

Проверил:

Уважаеми родители,
 Табличката ще Ви ориентира
 за мястото на Вашето дете
 в края на 4. клас.



Родител:

Оценка	6	5	4	3	2
Брой уч-ци					

Рецензия:

.....

.....

.....

Забележка: Самостоятелната работа №6 (изходно ниво) е от Книгата за учителя по математика 4. клас, автори - Ангелина Манова, Рени Рангелова, Юлияна Гарчева. Издателство „Просвета - София”, 2011 г.

Подготовка и оформление: Руска Тодорова