



# САМОСТОЯТЕЛНА РАБОТА № 3

Име: \_\_\_\_\_ III клас № \_\_\_\_\_ Дата: \_\_\_\_\_

ТЕМА:

## СЪБИРАНЕ И ИЗВАЖДАНЕ НА ЧИСЛАТА ДО 1 000

Зад.1. Пресметни и огради буквата пред верния отговор. (6 x 1 м.)



$$\begin{array}{r} 237 \\ + 495 \\ \hline \dots\dots \end{array}$$

а) 622  
б) 722  
в) 732  
г) 632

$$\begin{array}{r} 348 \\ + 254 \\ \hline \dots\dots \end{array}$$

а) 592  
б) 502  
в) 692  
г) 602

$$\begin{array}{r} 563 \\ + 37 \\ \hline \dots\dots \end{array}$$

а) 590  
б) 690  
в) 600  
г) 860



$$\begin{array}{r} 526 \\ - 347 \\ \hline \dots\dots \end{array}$$

а) 289  
б) 279  
в) 189  
г) 179

$$\begin{array}{r} 802 \\ - 154 \\ \hline \dots\dots \end{array}$$

а) 758  
б) 748  
в) 658  
г) 648

$$\begin{array}{r} 400 \\ - 32 \\ \hline \dots\dots \end{array}$$

а) 378  
б) 478  
в) 108  
г) 368



Зад.2. Пресметни и огради буквата пред верния отговор. (2 x 2 м.)

$$\begin{array}{l} 7 \cdot 8 + 464 = \\ = \dots\dots\dots \\ = \dots\dots \end{array}$$

а) 510  
б) 520  
в) 420  
г) 410


$$\begin{array}{l} 81 : 9 + 349 = \\ = \dots\dots\dots \\ = \dots\dots \end{array}$$

а) 358  
б) 348  
в) 448  
г) 458

Зад.3. Кой знак ще поставиш в празното квадратче? Огради буквата пред верния отговор. (2 x 2 м.)

$$800 - 348 \square 700 - 248$$

а) >  
б) =  
в) <



$$59 + 141 \square 621 - 459$$

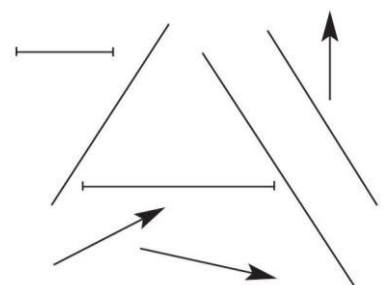
а) >  
б) =  
в) <

Зад.5. Огради в коя колона всички отговори са верни. (2 м.)

а) отсечките са 3  
правите са 2  
лъчите са 3

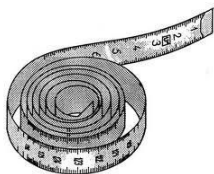


б) отсечките са 2  
правите са 3  
лъчите са 3



**Зад.6. Огради в коя колона всички отговори са верни. (2 т.)**

- а)  $100 \text{ см} = 1 \text{ м}$   
 $1 \text{ дм} = 10 \text{ мм}$   
 $1 \text{ км} = 100 \text{ м}$



- б)  $1 \text{ 000 м} = 1 \text{ км}$   
 $1 \text{ дм} = 10 \text{ см}$   
 $10 \text{ мм} = 1 \text{ см}$



**Зад.7. Огради буквата пред вярното решение на задачата. (3 т.)**

В градската спортна школа има 163 момчета, които са със 75 повече от момичетата.

Колко са общо децата в спортната школа?



Решение: .....  
 .....  
 .....

Отг.: ..... са общо децата в спортната школа.

а)  $163 + 75 = 238$   
 $163 + 238 = 401$  (деца)

б)  $163 - 75 = 88$   
 $163 + 88 = 251$  (деца)




**Скала за оценка:**

- 18 – 21 т. (Отличен)
- 15 – 17 т. (Много добър)
- 11 – 14 т. (Добър)
- 8 – 10 т. (Среден)
- 0 – 7 т. (Слаб)

Максимален брой точки: **21**

Брой точки за верни отговори:



**Оценка:**

Проверил: .....



*Уважаеми родители,  
 Табличката ще Ви ориентира за мястото  
 на Вашето дете в момента.*

Родител: .....

<b>Оценка</b>	6	5	4	3	2
<b>Брой уч-ци</b>					

*Забележка:* Самостоятелната работа №3 е от Книгата за учителя по математика 3. клас, автори - Ангелина Манова, Рени Рангелова, Юлияна Гарчева. Издателство „Просвета - София”, 2004, 2008 г.

**Подготовка и оформление:** Руска Тодорова