



САМОСТОЯТЕЛНА РАБОТА № 6

КАКВО НАУЧИХ ЗА БЕЗОПАСНОТО ПОВЕДЕНИЕ

Околен свят 2. клас

1. Кой знак показва, че наблизо има пешеходна пътека? (1 т.)

Огради цифрата му.

1.



2.



3.



4.




2. Пресичаш улицата, оглеждаш се и виждаш, че отляво идва кола, но смяташ, че тя все още е далече. Как е правилно да постъпиш? (1 т.)

- а) преминаваш бързо, като тичаш до отсрещния тротоар;
- б) пресичаш, без да бързаш, и гледаш към колата, за да може шофьорът да те забележи и да спре, ако е необходимо;
- в) изчакваш колата да отmine и тогава пресичаш, ако няма други коли.



3. Кое природно бедствие е предизвикано от проливен дъжд? (1 т.)

- а) буря;
- б) наводнение;
- в) земетресение



САМОСТОЯТЕЛНА РАБОТА № 6

КАКВО НАУЧИХ ЗА БЕЗОПАСНОТО ПОВЕДЕНИЕ

Околен свят 2. клас

1. Кой знак показва, че наблизо има пешеходна пътека? (1 т.)

Огради цифрата му.

1.



2.



3.



4.



2. Пресичаш улицата, оглеждаш се и виждаш, че отляво идва кола, но смяташ, че тя все още е далече. Как е правилно да постъпиш? (1 т.)

- а) преминаваш бързо, като тичаш до отсрещния тротоар;
- б) пресичаш, без да бързаш, и гледаш към колата, за да може шофьорът да те забележи и да спре, ако е необходимо;
- в) изчакваш колата да отmine и тогава пресичаш, ако няма други коли.



3. Кое природно бедствие е предизвикано от проливен дъжд? (1 т.)

- а) буря;
- б) наводнение;
- в) земетресение



4. Напиши спешните телефони.

(4 т.)

Пожарна ☎....., Полиция ☎....., Бърза помощ ☎....., Спешни случаи ☎.....

5. При кое поведение на децата има опасност от злополука?

(1 т.)

- а) дете минава по пешеходна пътека на улицата с много коли;
- б) деца са се качили на строежа на нов блок в квартала;
- в) две деца играят на електронни игри.



6. Довърши изреченията.

(2 т.)

Играта с кибрит и огън


Използването на инструменти и електрически уреди е

7. Безопасно ли е поведението на детето в тази ситуация?

(2 т.)

а) да, защото

б) не, защото



Скала за оценка:

- 11 – 12 т. (6)
- 9 – 10 т. (5)
- 7 – 8 т. (4)
- 5 – 6 т. (3)
- 0 – 4 т. (2)

Макс. брой точки: 12

Получени бр.точки:

Оценка:

Проверил:

Родител:.....

Уважаеми родители,
Табличката ще Ви ориентира за
мястото на Вашето дете в момента.

Оценка	6	5	4	3	2
Брой уч-ци					

4. Напиши спешните телефони.

(4 т.)

Пожарна ☎....., Полиция ☎....., Бърза помощ ☎....., Спешни случаи ☎.....

5. При кое поведение на децата има опасност от злополука?

(1 т.)

- а) дете минава по пешеходна пътека на улицата с много коли;
- б) деца са се качили на строежа на нов блок в квартала;
- в) две деца играят на електронни игри.



6. Довърши изреченията.

(2 т.)

Играта с кибрит и огън


Използването на инструменти и електрически уреди е

7. Безопасно ли е поведението на детето в тази ситуация?

(2 т.)

а) да, защото

б) не, защото



Скала за оценка:

- 11 – 12 т. (6)
- 9 – 10 т. (5)
- 7 – 8 т. (4)
- 5 – 6 т. (3)
- 0 – 4 т. (2)

Макс. брой точки: 12

Получени бр.точки:

Оценка:

Проверил:

Родител:.....

Уважаеми родители,
Табличката ще Ви ориентира за
мястото на Вашето дете в момента.

Оценка	6	5	4	3	2
Брой уч-ци					